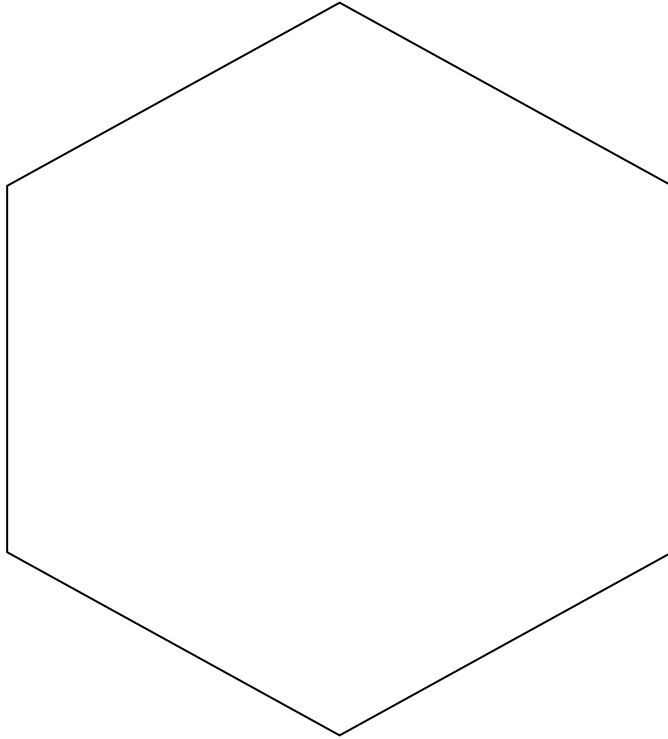


Nom : \_\_\_\_\_

1. Réalisez le **croquis de synthèse** de la répartition de la population française. Sur l'hexagone ci-dessous, vous placerez les **espaces très peuplés**, les **espaces faiblement peuplés**. Vous complétez la **légende** et donnerez un **titre** à la carte. (6 points)



TITRE : \_\_\_\_\_

Légende :

1. Espaces faiblement peuplés :

: zones de montagne

: diagonale du vide

2. Espaces fortement peuplés :

: grosses agglomérations

: littoraux

: zones frontalières

2. a) Calculez la **densité de population** de la Drôme, de Valence, de la Chapelle en Vercors et complétez ce tableau (3 points) :

	Superficie	Population	Densité de population
Département de la Drôme	6530 km <sup>2</sup>	484 715 habitants	
Commune de Valence	37 km <sup>2</sup>	63 405 habitants	
Commune de la Chapelle en Vercors	45 km <sup>2</sup>	675 habitants	

b) Lequel de ces espaces est le plus densément peuplé ? \_\_\_\_\_

Le moins densément peuplé ? \_\_\_\_\_

Expliquer cette différence : \_\_\_\_\_

(4 points)

3. Donnez le mot correspondant à chacune de ces définitions (3 points):

a. Mouvement de la population française en direction des régions situées dans le sud de la France, attirée par les meilleures conditions climatiques : \_\_\_\_\_

b. Indicateur qui permet de mesurer la répartition, la concentration de la population sur un espace : \_\_\_\_\_

c. Mouvement de la population partant s'installer sur les littoraux : \_\_\_\_\_

4. **La démographie française** : donnez les 3 raisons de l'augmentation du nombre de français (3 points).

- \_\_\_\_\_

\_\_\_\_\_

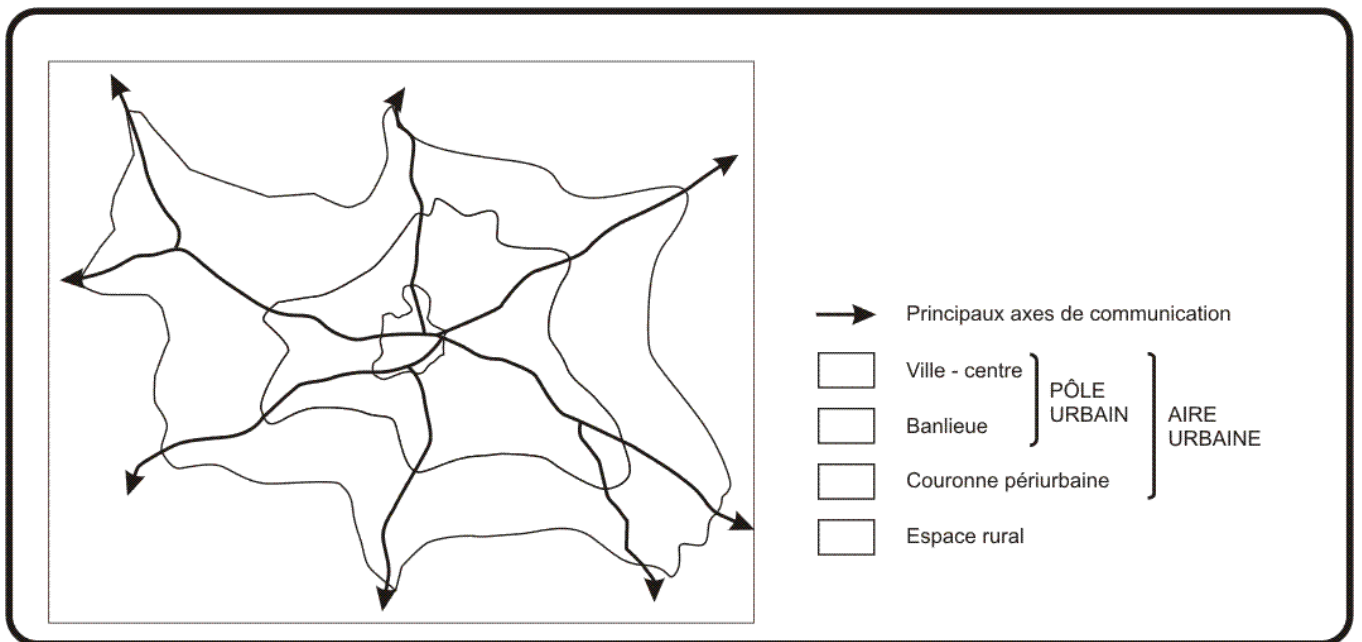
- \_\_\_\_\_

\_\_\_\_\_

- \_\_\_\_\_

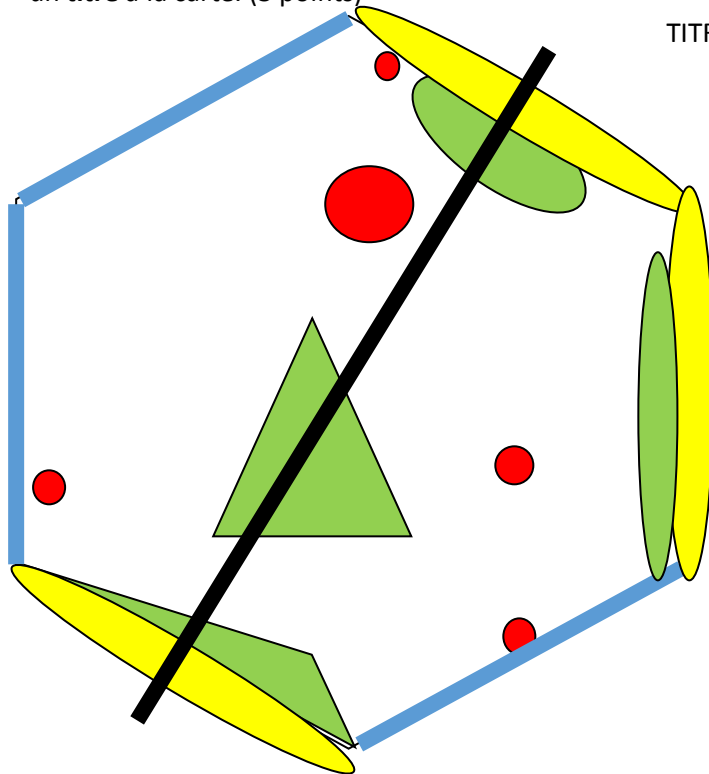
\_\_\_\_\_

5. **L'influence urbaine**. Complétez avec des couleurs ce croquis et sa légende qui montrent l'étalement urbain.  
(4 points)



Nom : **CORRECTION**


1. Réalisez le **croquis de synthèse** de la répartition de la population française. Sur l'hexagone ci-dessous, vous placerez les **espaces très peuplés**, les **espaces faiblement peuplés**. Vous complétez la **légende** et donnerez un **titre** à la carte. (3 points)

TITRE : **LA REPARTITION DE LA POPULATION FRANCAISE**


Légende :

3. Espaces faiblement peuplés :


 : zones de montagne

 : diagonale du vide

4. Espaces fortement peuplés :

 : grosses agglomérations

 : littoraux

 : zones frontalières

2. a) Calculez la **densité de population** de la Drôme, de Valence, de la Chapelle en Vercors et complétez ce tableau (3 points) :

	Superficie	Population	Densité de population
Département de la Drôme	6530 km <sup>2</sup>	484 715 habitants	74,22
Commune de Valence	37 km <sup>2</sup>	63 405 habitants	1713,64
Commune de la Chapelle en Vercors	45 km <sup>2</sup>	675 habitants	15

b) Lequel de ces espaces est le plus densément peuplé ? **VALENCE**

Le moins densément peuplé ? **LA CHAPELLE EN VERCORS**

Expliquer cette différence : **Valence est une ville située dans la vallée du Rhône, en plaine tandis que La Chapelle est en zone de montagne.**

(4 points)

3. Donnez le mot correspondant à chacune de ces définitions (3 points):
- Mouvement de la population française en direction des régions situées dans le sud de la France, attirée par les meilleures conditions climatiques : **héliotropisme**
  - Indicateur qui permet de mesurer la répartition, la concentration de la population sur un espace : **Densité de population**
  - Mouvement de la population partant s'installer sur les littoraux : **littoralisation**

4. **La démographie française** : donnez les 3 raisons de l'augmentation du nombre de français (3 points).
- Le fort taux de fécondité français dû en partie au système de protection familiale (congé maternité et parental, allocations familiales, structures d'accueil des enfants...)
  - L'augmentation de l'espérance de vie, grâce à un bon encadrement médical et un système performant de sécurité sociale.
  - L'immigration qui contribue depuis toujours à l'accroissement de la population française.
5. **L'influence urbaine**. Complétez avec des couleurs ce croquis et sa légende qui montrent l'étalement urbain. (4 points)

